

Opgave 2 – Wereld: Wereldbevolkingsgroei

Bestudeer bron 1 uit het bronnenboekje die bij deze opgave hoort.

Gebruik bron 1.

- 1p 5 Noem
- het werelddeel dat in de periode 2005-2050 de grootste absolute bevolkingsgroei kent;
 - het werelddeel dat in de periode 2005-2050 de grootste relatieve bevolkingsgroei kent.

Gebruik bron 1.

Er bestaat een verband tussen de positie die landen innemen in het wereldsysteem en de omvang van de bevolkingsgroei in die landen.

- 2p 6 Noteer de drie onderdelen van het wereldsysteem onder elkaar op je antwoordblad.
Zet achter elk onderdeel hoe je de bevolkingsgroei daar kunt kenmerken.

Hieronder staan vier demografische kenmerken:

- a een hoge mate van vergrijzing;
- b een relatief omvangrijke immigratie;
- c een hoog vruchtbaarheidscijfer;
- d een sterk afnemend geboorteoverschot.

De demografische transitie is de periode waarin een land overgaat van hoge naar lage geboorte- en sterftcijfers. In de tabel hieronder staan vier landen. Deze landen bevinden zich 'voor', 'in' of 'na' de demografische transitie.

land	'voor', 'in' of 'na' de demografische transitie	demografisch kenmerk (a t/m d)
Bangladesh		
Brazilië		
Japan		
Verenigde Staten		

- 3p 7 Neem bovenstaande tabel over op je antwoordblad.
Zet achter elk land
- of dit land zich 'voor', 'in' of 'na' de demografische transitie bevindt;
 - het demografisch kenmerk (a tot en met d) dat het meest van toepassing is op dit land.

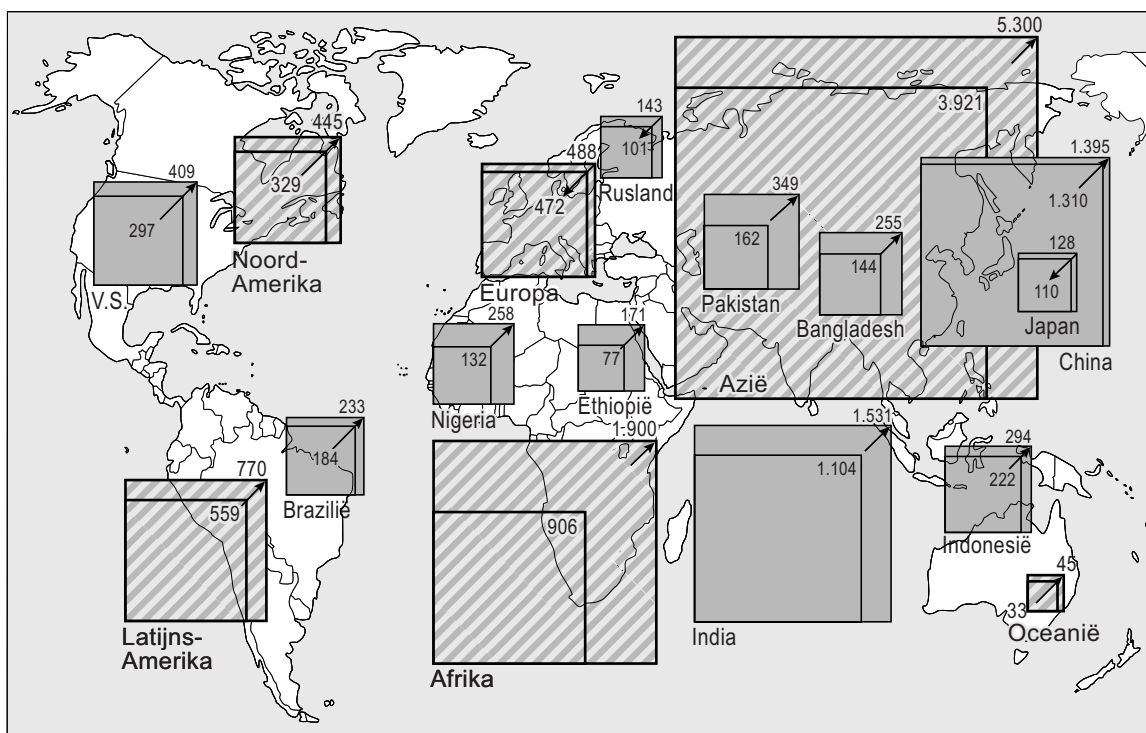
Binnen een land als Brazilië bestaat een groot verschil in bevolkingsgroei tussen het zuidoosten en de rest van het land.

- 3p 8 Geef drie oorzaken voor dit verschil.

Opgave 2 – Wereld: Wereldbevolkingsgroei

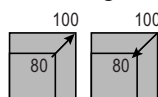
bron 1

Bevolkingsomvang in 2005 en 2050

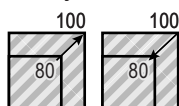


Legenda:

Bevolking in 2005 en 2050, in miljoenen



landen



werelddelen

↗ toename

↘ afname

vrij naar: Atlas du monde global, 2010

Bronvermelding

Een opsomming van de in dit examen gebruikte bronnen, zoals teksten en afbeeldingen, is te vinden in het bij dit examen behorende correctievoorschrift, dat na afloop van het examen wordt gepubliceerd.